

Activitat competencial 1. La loteria

- 3450.
- Tretze mil dos-cents quaranta-cinc.
- $4567 < 4576$, $8476 > 3476$, $6578 < 6587$, $23451 < 24351$.
- 3256, 9999, 30000, 65784 i 80120.
- 70005.

Activitat competencial 2. El senyor dels anells

- $9 \times 2 = 18$.
- Tres grups de 9 línies, en total 27.
- 18.
- 90.
- 3 caixes.

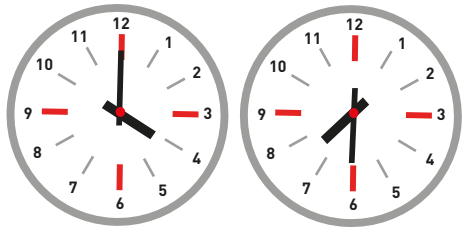
Activitat competencial 3. Formem equips

- 20.
- 2 grups de 12.
- $12 : 2 = 6$.
- 24.
- 50.

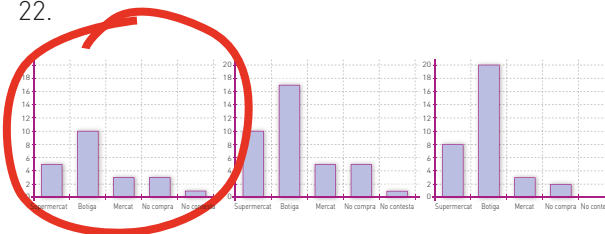
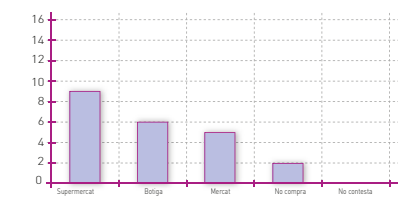
Activitat competencial 4. Els cromos

- Cromo 2.
- Resposta procedimental. 12 cm de perímetre.
- Resposta procedimental. 8 quadrats.
- Resposta procedimental. 12 quadrats.
- Resposta procedimental.
Sí. El rectangle girat ocupa la mateixa superfície que l'inicial.

Activitat competencial 5. La botiga de queviures

- 
- 1 quart d'hora o 15 minuts.
- 3 L.
- 3 kg.
- Els en tornen 12. La compra va costar 8 euros.

Activitat competencial 6. L'enquesta de consum

- 22.
- 
- 
- | | Supermercat | Botiga | Mercat | No compra | No contesta |
|----------|-------------|--------|--------|-----------|-------------|
| Verdures | 8 | 2 | 12 | 0 | 0 |
- En el gràfic 3 perquè el nombre d'enquestes és 22.

Activitat competencial 7. Transport de fruites

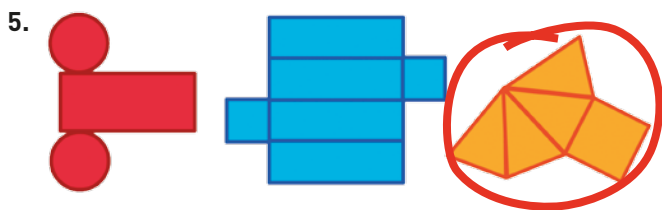
- Menys de 500 kg.
- 180 caixes.
- 170 kg.
- 975 kg.
- Sí, perquè pesen 3250 kg.

Activitat competencial 8. Les rajoles de xocolata


1. $1/10$.
- 3 porcions.
- $4/5$, són 12 porcions.
- $7/10$.
- $1/4$ i $5/10$ són equivalents, per tant, en Pere i en Joan es van menjar la mateixa quantitat de xocolata.

Activitat competencial 9. Geometria a casa

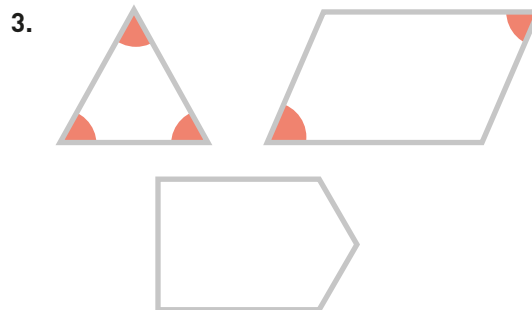
- 1.
- 4: piràmide.
- 1:1: llauna de conserva (cilindre).
5: fanalet (esfera).
- 2.



Activitat competencial 10. Les gomes elàstiques



2. Els angles de les tres figures són iguals.



4. Resposta procedimental.
5. El quadrilàter.

Activitat competencial 11. Les bosses de caramels

- Surt un caramel de maduixa, de taronja o de llimona.
- És més probable que mengin entre tots 10 caramels de maduixa que 10 de llimona.
- És segur que tenen més caramels de maduixa que de llimona.
- És segur que hi ha la mateixa quantitat de caramels de maduixa que de llimona i de taronja junts.
- És segur que els queden 100 caramels entre tots.