

Actividad competencial 1.
La lotería nacional

- 3450.
- Trece mil doscientos cuarenta y cinco.
- $4567 < 4576$, $8476 > 3476$, $6578 < 6587$, $23451 < 24351$.
- 3256, 9999, 30000, 65784 y 80120.
- 70005.

Actividad competencial 2.
El señor de los anillos

- $9 \times 2 = 18$.
- Tres grupos de 9 líneas, en total 27.
- 18.
- 90.
- 3 cajas.


Actividad competencial 3.
Formamos equipos

- 20.
- 2 grupos de 12.
- $12 : 2 = 6$.
- 24.
- 50.

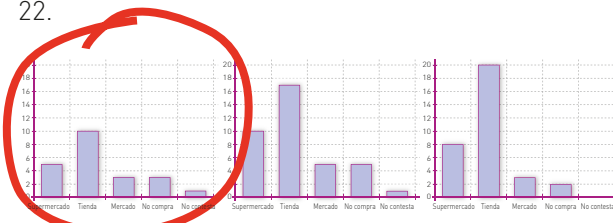
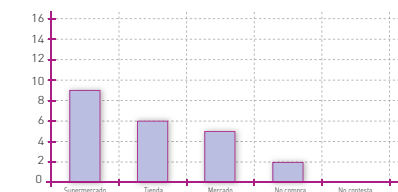
Actividad competencial 4.
Los cromos

- Cromo 2.
- Respuesta procedimental. 12 cm de perímetro.
- Respuesta procedimental. 8 cuadrados.
- Respuesta procedimental. 12 cuadrados.
- Respuesta procedimental.
Sí. El rectángulo rotado ocupa la misma superficie que el inicial.

Actividad competencial 5.
La tienda de alimentación

- 
- 1 cuarto de hora o 15 minutos.
- 3 L.
- 3 kg.
- Les devuelven 12. La compra costó 8.

Actividad competencial 6.
La encuesta de consumo

- 22.
- 
- 
- | | Supermercado | Tienda | Mercado | No compra | No contesta |
|-----------|--------------|--------|---------|-----------|-------------|
| Vegetales | 8 | 2 | 12 | 0 | 0 |
- En el gráfico 3, porque el número de encuestas es 22.

Actividad competencial 7.
Transporte de frutas

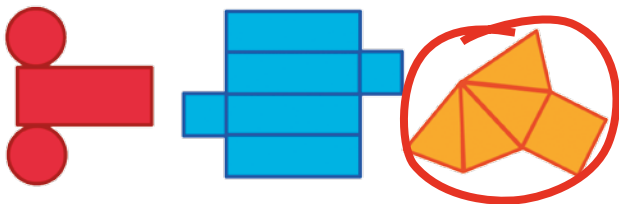
- Menos de 500 kg.
- 180 cajas.
- 170 kg.
- 975 kg.
- Sí, porque pesan 3250 kg.

Actividad competencial 8. Las tabletas de chocolate

1. $1/10$.
- 3 porciones.
- $4/5$, son 12 porciones.
- $7/10$.
- $1/2$ y $5/10$ son equivalentes, por lo tanto Pedro y Juan han comido la misma cantidad de chocolate.

Actividad competencial 9. Geometría en casa

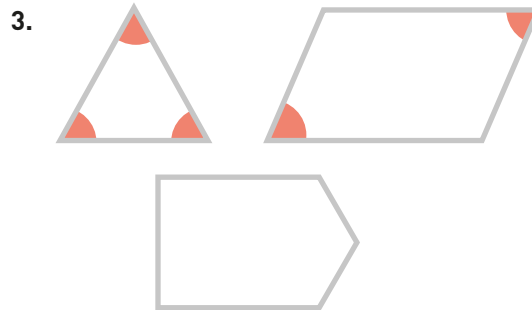
- 1.
- 4: pirámide.
- 1: lata de conservas (cilindro).
5: farolillo (esfera).
- 2.
-



Actividad competencial 10. Las gomas elásticas



- Los ángulos de las tres figuras son iguales.



- Respuesta procedimental.
- El cuadrilátero.

Actividad competencial 11. Las bolsas de caramelos

- Sale un caramelo de fresa, naranja o limón.
- Es más probable que coman entre todos 10 caramelos de fresa que 10 de limón.
- Es seguro que tienen más caramelos de fresa que de limón.
- Es seguro que hay la misma cantidad de caramelos de fresa que de limón y naranja juntos.
- Es seguro que les quedan 100 caramelos entre todos.